

ĐỀ MINH HỌA VNU TEST - TIẾNG Ả RẬP BẬC 5

ĐỀ ĐỌC

Số lượng câu hỏi: 35

Thời gian: 50 phút

Trong bài thi này, em sẽ đọc các văn bản và chọn câu trả lời đúng nhất cho mỗi câu hỏi. Sau đó, trong phiếu trả lời, em hãy tìm số tương ứng với từng câu hỏi và điền câu trả lời.

PHẦN 1: Câu hỏi 01 – 15

اختر كلمات مناسبة لملء في الفراغات:

1. أي فيلم حصل على جائزة الأوسكار \_\_\_\_\_ فيلم هذه السنة؟  
A. لأقوى B. لأحسن C. لأعلى D. لأرخص
2. لم نستطع النوم الليلة الماضية بسبب \_\_\_\_\_ الكبيرة في الشارع.  
A. الضجة B. السكوت C. الظاهرة D. الهدوء
3. كتاب "آيات شيطانية" لسلمان رشدي \_\_\_\_\_ غضباً كبيراً من المسلمين في العالم؟  
A. أبقع B. أبلغ C. أثقل D. أثار
4. يعاني معظم الأشخاص في فترات عدة من حياتهم من \_\_\_\_\_.  
A. التفاؤل B. الأمل C. الإكتئاب D. السرور
5. غالباً ما نلجأ إلى الرياضة للتنفيس عن \_\_\_\_\_ والتخفيف من طاقتنا السيئة.  
A. شرفنا B. غضبنا C. حبتنا D. فرحنا
6. تظهر هذه الدراسة أن كثيراً من اللبنانيين \_\_\_\_\_ فكرة الفصل بين الدين والثقافة.  
A. يرفض B. يرفضان C. يرفضون D. يرفضن
7. ظننت أنني \_\_\_\_\_ نظارتي ولكنني اكتشفت بعد يومين أنني كنت قد تركتها على إحدى الطاولات في المكتبة.  
A. حكيت B. فقدت C. مازلت D. ضحكت
8. غضبت كثيراً من كلامه، ولولا \_\_\_\_\_ لزوجته التي كانت معه لطلبت منه أن يترك بيتي.  
A. انفصالي B. انشغالي C. انزعاجي D. احترامي
9. أشارت دراسة جديدة، بشكل \_\_\_\_\_، إلى أن الرقص أحد أفضل أشكال علاج الاكتئاب.  
A. مفاجئ B. متحمس C. مطيع D. موافق
10. بدأت الدراسة في \_\_\_\_\_ عبر الإنترنت.  
A. المرض B. الدواء C. الانتشار D. الزهور

11. الغذاء هو أي طعام أو شراب يمكن للجسم الاستفادة منه بعد \_\_\_\_\_ .  
 A. تناوله B. تناوله C. تناوله D. تناوله
12. نتناول الأشرطة عندما نشعر \_\_\_\_\_ العطش.  
 A. ب B. على C. من D. عن
13. الذكاء الاصطناعي سلاح \_\_\_\_\_ حدين.  
 A. ذا B. ذي C. ذات D. ذو
14. مصدر "سعى" هو \_\_\_\_\_ ؟  
 A. سعة B. مسعى C. سعاية D. سعية
15. من المذهل أن \_\_\_\_\_ مثل الرقص قد يكون له مثل هذه القوة على صحتنا العقلية.  
 A. شيء بسيط B. شيئاً بسيطاً C. شيء بسيط D. شيء بسيط

## PHẦN 2: Câu hỏi 16 - 25

املاً الفراغات بكلمات مناسبة:

- كشفت دراسة حديثة أجراها باحثون من «المعهد الوطني لبحوث الزراعة والغذاء والبيئة» في فرنسا أن تبني عادة تناول الوجبات الأولى والأخيرة في وقت مبكر (16) \_\_\_\_\_ في الوقاية من خطر الإصابة بأمراض القلب والأوعية الدموية.
- وأظهرت النتائج (17) \_\_\_\_\_ الخميس بدورية «نيتشر كومينيكيشن» أن (18) \_\_\_\_\_ الموعد الصباحي المبكر لوجبة الإفطار (19) \_\_\_\_\_ بارتفاع خطر الإصابة بأمراض القلب والأوعية الدموية بزيادة تُقدَّر بـ 6 في المائة لكل ساعة تأخير.
- في تعليقه (20) \_\_\_\_\_ النتائج، قال الدكتور أحمد بنداري، أستاذ مساعد أمراض القلب والأوعية الدموية بكلية الطب في جامعة بنها المصرية، لـ«الشرق الأوسط»: «تتظر هذه الدراسة في (21) \_\_\_\_\_ آخر جديد في العلاقة بين علم التغذية والإصابة بأمراض الشرايين القلبية، وهو: " (22) \_\_\_\_\_ نأكل؟ وليس: ماذا نأكل؟". وأضاف أن «معظم خبراء التغذية والصحة العامة يركزون على نوعية الطعام أكثر من توزيع توقيتاته على مدار اليوم، وهو (23) \_\_\_\_\_ نغفل عادة عن أخذه في الاعتبار".
- وتُعدّ أمراض القلب والأوعية الدموية السبب الرئيسي للوفاة في العالم (24) \_\_\_\_\_ دراسة العبء العالمي للأمراض، الصادرة عام 2019؛ ما يعني أن النظام الغذائي يلعب دوراً رئيسياً في تطور هذه الأمراض. وأدى نمط الحياة الحديثة للمجتمعات الغربية إلى عادات غذائية قد تكون (25) \_\_\_\_\_ صحياً مثل تناول العشاء في وقت متأخر أو تخطي الموعد المبكر لوجبة الإفطار.

16. A. تساعد B. يساعد C. سيساعد D. يساعدون
17. A. المصورة B. الملونة C. المحوّلة D. المنشورة
18. A. تخطي B. تحظى C. تقدر D. تقفز
19. A. يعرقل B. يشحن C. يقهر D. يرتبط

20. A. إلى B. على C. في D. فوق
21. A. بُعد B. موقع C. بديل D. محل
22. A. أين B. متى C. لماذا D. مَنْ
23. A. من B. حيث C. ما D. أي
24. A. وفقاً لـ B. بالإضافة إلى C. مع ذلك D. وعليه
25. A. ضارة B. ضارة C. ضارة D. ضارة

### PHẦN 3: Câu hỏi 26 - 35

#### النص الأول:

من المتوقع أن تكون سنة 2023 هي الأكثر سخونة على الإطلاق، حيث اقتربت فيها حرارة الكوكب من عتبة 1.5 درجة مئوية التي حددها «اتفاق باريس المناخي». وشهدت أوروبا وأميركا الشمالية وآسيا موجات حرّ حارقة دفعت قدرة الإنسان على التحمّل إلى أقصى حدودها. وعرفت مدن مثل لندن وباريس ارتفاع حرارة الطقس فوق 40 درجة مئوية، بينما اندلعت حرائق الغابات عبر القارات، محوّلة المناظر الطبيعية إلى جحيم.

وأدى الارتفاع المتواصل في الحرارة إلى تسريع ذوبان الأنهار الجليدية القطبية والجليبية. ووصل حجم الجليد البحري في القطب الشمالي إلى أدنى نقطة تم تسجيلها على الإطلاق في سبتمبر، في حين خسر الغطاء الجليدي في غرينلانداً رقماً قياسياً قدره 26 مليار طن في يوم واحد.

وكانت الهيئة الحكومية الدولية المعنية بتغيّر المناخ حدّرت هذه السنة من أن النشاط البشري يغيّر المناخ بطريقة غير مسبوقة، وأحياناً لا رجعة فيها. ومن المتوقع أن تبلغ كمية ثاني أكسيد الكربون في الغلاف الجوي 419 جزءاً في المليون في 2023 مقارنةً بـ417 جزءاً في المليون في العام السابق.

ويرى اقتصاديون أن أزمة المناخ هي نتيجة لإخفاقات السوق المتعددة، ويدعون أصحاب القرار إلى زيادة أسعار الأنشطة التي تنبعث منها غازات الدفيئة عبر آليات مختلفة، بما فيها ضرائب الكربون، من أجل تحفيز الابتكارات في مجال الطاقة المنخفضة الانبعاثات، مهما كان مصدرها.

ويثير الصراع المستمر في أوروبا تساؤلات كبيرة حول تأثير النزاعات على التحوّل العالمي إلى الطاقة النظيفة. وتعدّ الحرب في أوكرانيا ميداناً لاختبار ما إذا كانت زيادة الاستثمار في الوقود الأحفوري ستؤدي إلى عرقلة تحوّل العالم إلى الطاقة النظيفة، أو أن التهديدات السياسية والعسكري سيدفعان نحو مزيد من التحوّل إلى مصادر طاقة متجددة أكثر أماناً ونظافةً وأقل عرضة للتقلبات.

وعلى أرض الواقع، شهدت 2023 ارتفاعاً ملحوظاً في استخدام مصادر الطاقة المتجددة، وحققت دول مثل ألمانيا والدنمارك حصصاً قياسية من الطاقة النظيفة في شبكات الكهرباء لديها، مما يدل على جدوى وإمكانات حلول الطاقة الجديدة، خصوصاً من الشمس والرياح. وارتفعت الاستثمارات في الطاقة الشمسية، حيث وصلت التركيبات إلى مستويات عالية جديدة في جميع أنحاء العالم.

وتتابعت في 2023 الجهود العالمية لمواجهة تحدي المناخ، وازدادت الضغوط من أجل إجراء تخفيضات جذرية في الانبعاثات خلال هذا العقد لإبقاء ازدياد الاحترار العالمي في نطاق 1.5 درجة مئوية، كما تعزز الاهتمام

بتطوير تقنيات التقاط وتخزين ثاني أكسيد الكربون. وجاءت مقررات القمة المناخية في دبي تأكيداً لهذا الاتجاه،

الذي يركز على جوهر المشكلة، أي تخفيف الانبعاثات أياً كان مصدرها.

26. ما هي أهم التحديات التي تواجه العالم في مجال تغيير المناخ؟

A. انتشار حرائق الغابات.

B. مشكلة قطع الغابات.

C. زيادة درجة الحرارة.

D. فشل اتفاق باريس المناخي.

27. ماذا تم تسجيله في سبتمبر؟

A. تكاثر الغطاء الجليدي في غرينلاند.

B. تقليل الجليد البحري في القطب الشمالي.

C. تسجيل أدنى درجة الحرارة في السنة.

D. انقراض الغطاء الجليدي في غرنلاند.

28. ما مقترح الاقتصاديين لحل أزمة المناخ؟

A. تقديم مكافآت لأصحاب الابتكارات.

B. فرض ضرائب الكربون لأصحاب القرارات.

C. تنويع أسواق تبيع الانبعاثات في الدول المتقدمة.

D. فرض ضرائب على الأنشطة المتسببة في الانبعاثات.

29. ما هو التأثير المحتمل للصراعات في أوروبا على التحوّل العالمي إلى الطاقة النظيفة؟

A. تأخير التحوّل إلى الطاقة النظيفة.

B. تعزيز التحوّل إلى مصادر طاقة متجددة.

C. تشجيع الاعتماد على الوقود الأحفوري.

D. تسهيل التحوّل العالمي إلى الطاقة النظيفة.

30. ما الذي يشير إليه "هذا الاتجاه" في الفقرة الأخيرة؟

A. معاناة دبي ومواجهتها تحديات من أزمة المناخ.

B. إبطاء ارتفاع الحرارة وتخزين ثاني أكسيد الكربون.

C. ازدياد الضغوط على دبي للاهتمام بابتكارات.

D. استعمال الانبعاثات في الأنشطة التنموية.

النص الثاني:

التنمية المستدامة وحماية البيئة هما مفهومان يتصارعان في واجهة القضايا العالمية في العصر الحديث. ففي ظل الزيادة المطردة في النمو السكاني والتطور الصناعي، يواجه العالم تحديات بيئية هائلة تهدد استدامة الكوكب وجودته المعيشية.

تعتبر التنمية المستدامة هدفًا يهدف إلى تلبية احتياجات الأجيال الحالية دون التأثير السلبي على قدرة الأجيال المستقبلية على تلبية احتياجاتها. ويعتمد هذا النهج الشامل على تحقيق التوازن بين الأبعاد الاقتصادية والاجتماعية والبيئية للتنمية.

تواجه البيئة العالمية تحديات هائلة، منها تغير المناخ، وانخفاض تنوع الأنواع الحيوية، وتلوث المياه والهواء، واستنزاف الموارد الطبيعية. ولحماية البيئة وتحقيق التنمية المستدامة، يتطلب العمل جهودًا مشتركة من الحكومات والشركات والمجتمعات المحلية والمواطنين.

تعتبر الحكومات الرائدة في تحقيق الحفاظ على البيئة والتنمية المستدامة عن طريق وضع التشريعات والسياسات البيئية وتشجيع الممارسات الصديقة للبيئة. وعلى المستوى الدولي، تتمثل الجهود في إبرام اتفاقيات بيئية دولية ومشاركة المعرفة والموارد لتعزيز الحفاظ على البيئة.

من جانبها، تلعب الشركات دورًا حاسمًا في التحول إلى ممارسات أعمال مستدامة والاستثمار في التكنولوجيا النظيفة والمبتكرة. وتتطلب المسؤولية الاجتماعية للشركات أن تكون البيئة جزءًا أساسيًا من استراتيجياتها وأن تتخذ إجراءات للحد من أثرها البيئي.

وعلى المستوى المجتمعي، يمكن للمجتمعات المحلية المساهمة في حماية البيئة من خلال تعزيز الوعي البيئي وتبني الممارسات المستدامة مثل إعادة التدوير وتوفير الطاقة واستخدام النقل العام.

أما المواطنون، فلهم دور مهم في حماية البيئة وتعزيز التنمية المستدامة عن طريق تبني أسلوب حياة مستدام والاهتمام بالاستدامة في اختياراتهم اليومية مثل التوفير في استهلاك الموارد والمياه، والتفضيل للمنتجات العضوية والمستدامة، والمشاركة في حملات التوعية البيئية.

تم افتتاح مؤتمر تغير المناخ في دبي بالتوصل لاتفاق بشأن صندوق الخسائر والأضرار. يعد هذا الصندوق مطلبًا أساسيًا منذ فترة طويلة من قبل الدول النامية التي تقف على الخطوط الأمامية لأزمة المناخ وتكابد تكاليف الدمار الناجم عن الظواهر المناخية الشديدة المتزايدة، بما في ذلك الجفاف والفيضانات وارتفاع منسوب مياه البحار.

وبعد عدة سنوات من المفاوضات المكثفة خلال مؤتمرات الأمم المتحدة السنوية حول تغير المناخ، أعربت الدول المتقدمة عن دعمها لضرورة إنشاء الصندوق العام الماضي خلال مؤتمر شرم الشيخ.

وبحسب ما ورد، فقد أعلن الدكتور سلطان الجابر، وزير الصناعة والتكنولوجيا المتقدمة في الإمارات ورئيس مؤتمر المناخ للعام الحالي، التزام بلاده بالمساهمة بمبلغ 100 مليون دولار في الصندوق.

باختصار، تحقيق التنمية المستدامة وحماية البيئة يتطلب تعاونًا شاملاً بين الحكومات والشركات والمجتمعات المحلية والأفراد. يجب أن يتم تعزيز التوعية البيئية وتبني الممارسات المستدامة على جميع المستويات، وتوفير الدعم والتشريعات اللازمة لتحقيق هذه الأهداف.

31. ما هو التحدي الرئيسي الذي يواجه التنمية المستدامة وحماية البيئة؟

- A. زيادة التلوث البيئي.  
B. النمو السكاني السريع.  
C. تدهور التنوع البيولوجي.  
D. نقص الموارد الطبيعية.
32. ما هو المفهوم الرئيسي للتنمية المستدامة؟  
A. تلبية طلبات الأجيال الحالية والمستقبلية.  
B. الاهتمام بالتنمية الاقتصادية وتوفير الموارد.  
C. تحقيق التوازن بين البيئة والتنمية.  
D. تجنب التأثير السلبي الناجم عن تلوث البيئة.
33. حسب النص أي من العبارات التالية صحيح لحماية البيئة والتنمية المستدامة؟  
A. الحكومات مسؤولة عن إصدار السياسات الخاصة بالبيئة.  
B. تخفيض التكاليف في التعامل مع الظواهر الجوية الشاقة.  
C. ضرورة إنشاء صندوق الخسائر والأضرار سريعاً.  
D. جميع الدول والطبقات الاجتماعية مسؤولة عن حماية البيئة.
34. ما هدف إنشاء صندوق الخسائر والأضرار؟  
A. التصدي للجفاف والفيضانات في الصيف.  
B. لتخفيف الدمار في مناطق الفيضانات والجفاف.  
C. لمساعدة الدول النامية على تكيف أزمة المناخ.  
D. لعقد مؤتمر الأطراف لتغير المناخ في دبي سنوياً.
35. ما مرادف "التشريعات" في الفقرة الأخيرة؟  
A. اللوائح  
B. القوانين  
C. الشخصيات  
D. المصادقة

**HẾT PHẦN THI ĐỌC**

# ĐỀ NGHE

Số lượng câu hỏi: 25

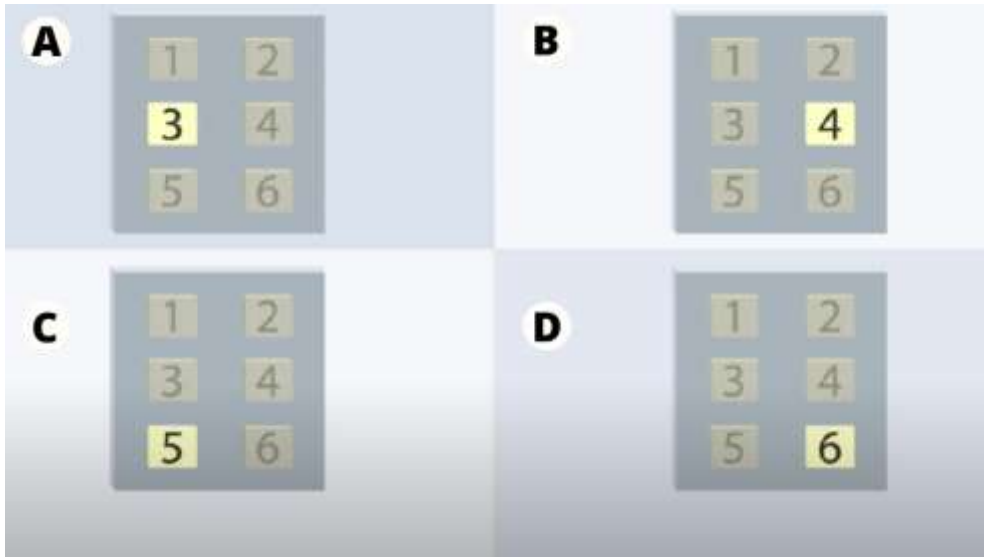
Thời gian: khoảng 35 phút

Bài thi gồm 3 phần thi. Em sẽ được nghe 2 lần. Với mỗi phần thi, em có thời gian để đọc câu hỏi và kiểm tra lại câu trả lời. Trong khi nghe, em có thể ghi chép và viết nháp câu trả lời vào đề thi. Sau khi kết thúc phần thi cuối cùng, em có 7 phút để chuyển câu trả lời sang phiếu trả lời.

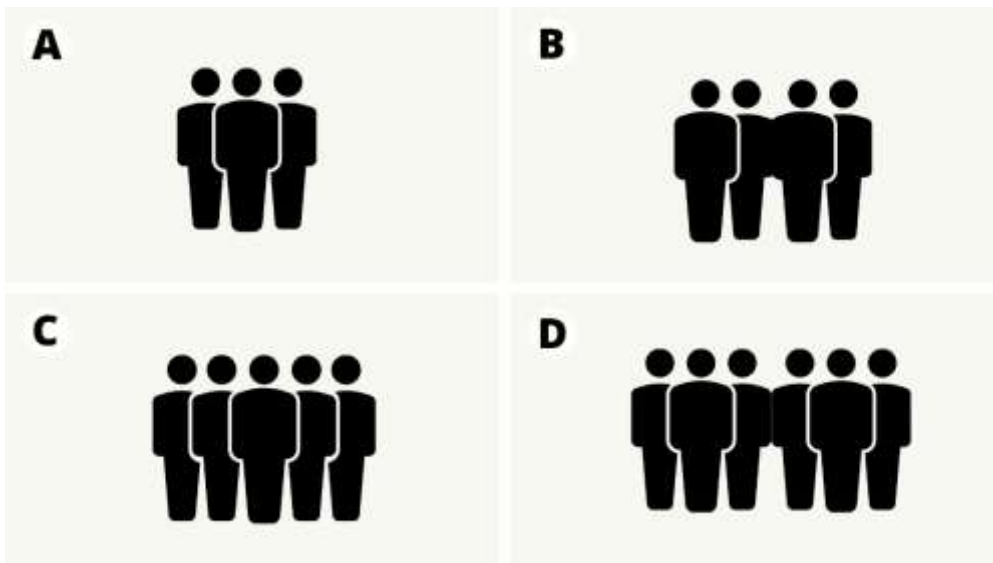
## PHẦN 1: Câu hỏi 1-10

في هذا الجزء ستستمعون إلى 10 محادثات، ثم تختارون الإجابة الصحيحة من بين الإجابات الأربع. وستستمعون إلى هذا الجزء مرتين.

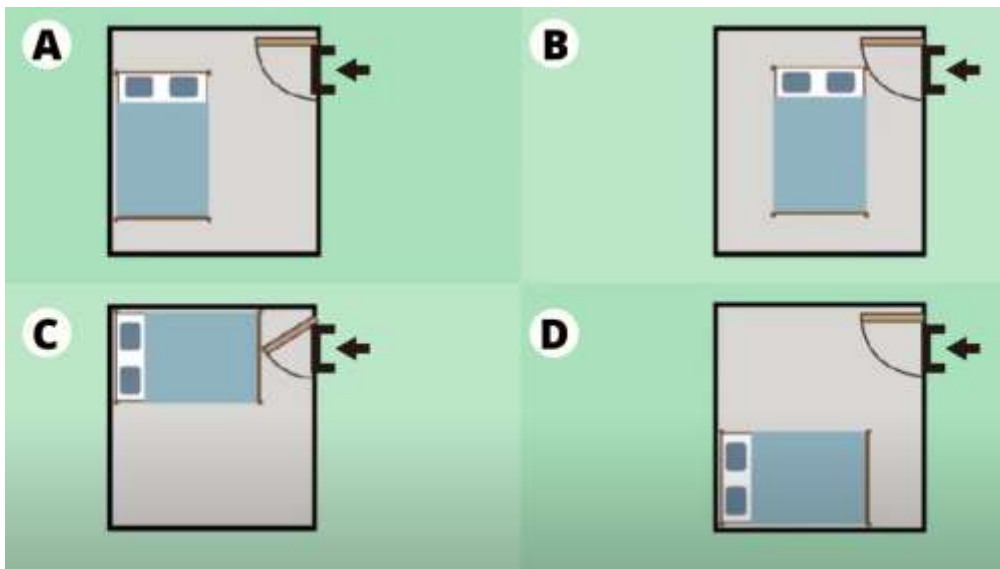
1. امرأة تتكلم مع موظف متجر. إلى أي طابق الامراة ذاهبة الآن؟



2. رجل وامراة يتحدثان. كم عدد الناس في المجموع الذين سوف يأتون إلى الحفلة؟



3. امرأة إشتريت تختا. أين سوف تضعه؟



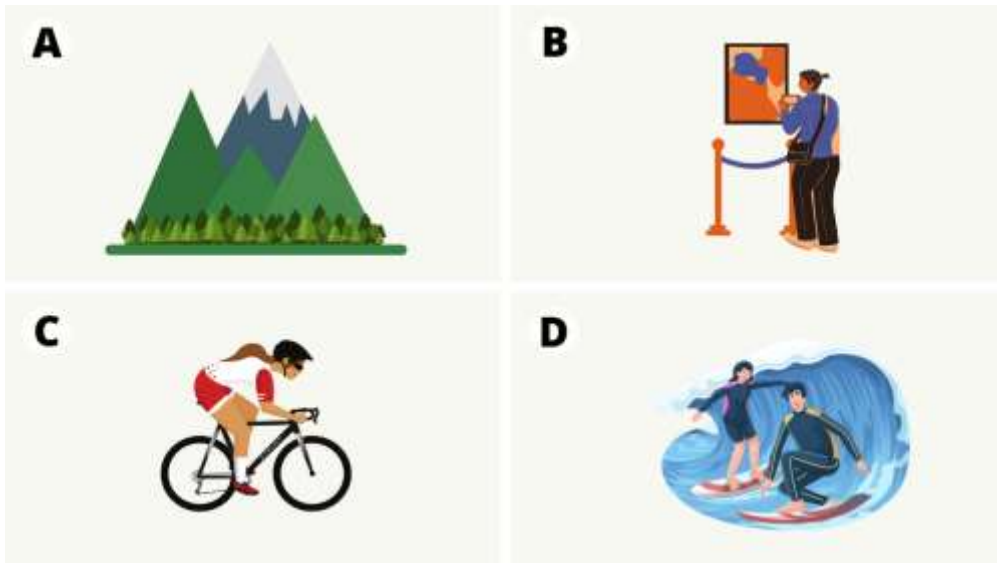
4. متى تتوفر الفحوصات الطبية العامة في المستشفى؟

A			B		
السبت	الخميس	الإثنين	الجمعة	الأربعاء	الإثنين
8:00 صباحاً - 6:00 مساءً 8:00 صباحاً - 6:00 مساءً 8:00 صباحاً - 12:00 ظهراً			8:00 صباحاً - 6:00 مساءً 8:00 صباحاً - 8:00 مساءً 8:00 صباحاً - 12:00 ظهراً		

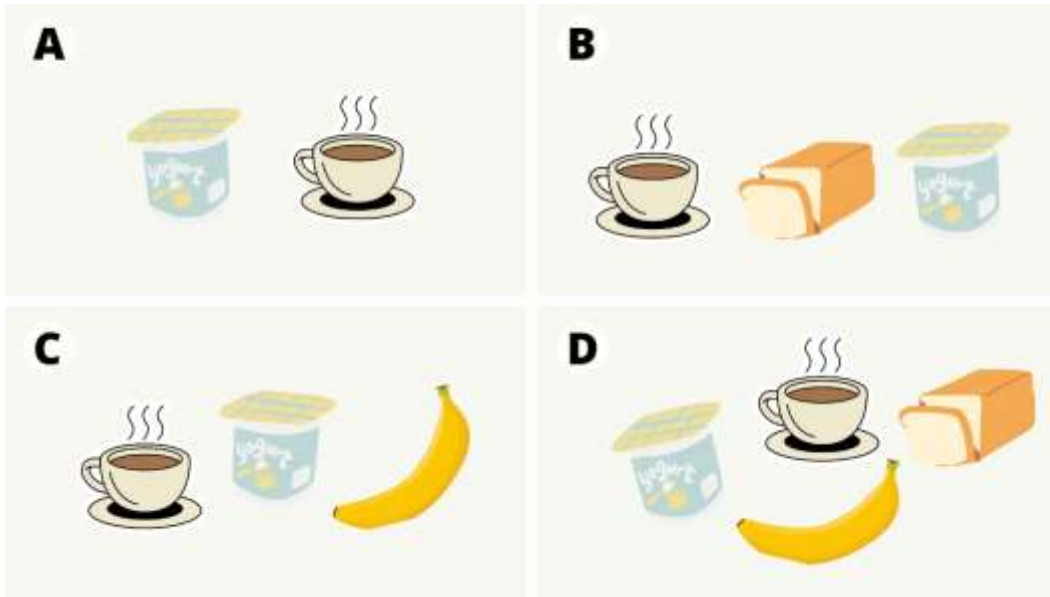
  

C			D		
السبت	الأربعاء	الإثنين	السبت	الأربعاء	الإثنين
8:00 صباحاً - 8:00 مساءً 8:00 صباحاً - 8:00 مساءً 8:00 صباحاً - 12:00 ظهراً			8:00 صباحاً - 6:00 مساءً 8:00 صباحاً - 8:00 مساءً 8:00 صباحاً - 12:00 ظهراً		

5. ماذا سوف تفعل المرأة خلال العطلة الصيفية؟




6. ماذا أكلت المرأة هذا الصباح؟



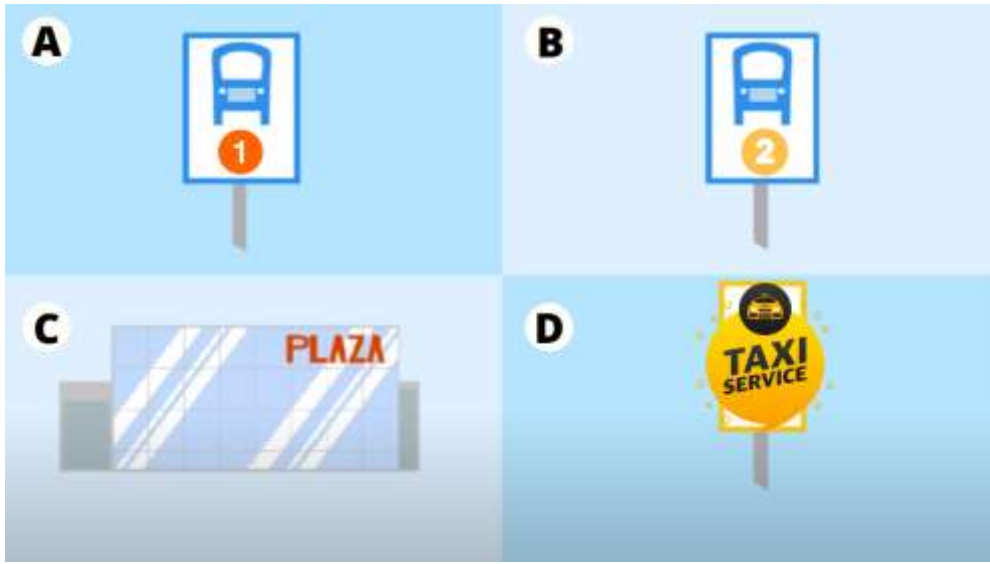
7. متى سيذهب الرجل لرؤية طبيب الاسنان؟

<p><b>A</b></p> <p>الخميس 5 p.m</p>	<p><b>B</b></p> <p>السبت 9 a.m</p>
<p><b>C</b></p> <p>الخميس 6 p.m</p>	<p><b>D</b></p> <p>السبت التالي 9 a.m</p>

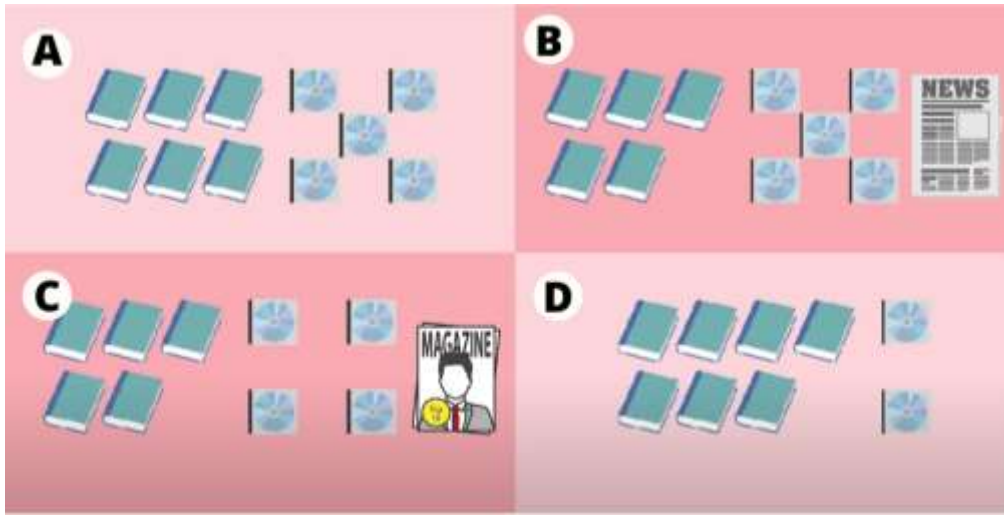
8. رجل يطلب البيزا على الهاتف. ماذا سوف يطلب؟



9. امرأة تسأل رجلا في مركز الزوار عن طريقة الذهاب إلى المطار. إلى أين سوف تذهب نعد ذلك؟



10. امرأة تسأل عن نظام تداول المواد في المكتبة. كم عدد المواد التي تستطيع أن تستعيرها في مرة واحدة؟



## PHẦN 2: Câu hỏi 11-19

في هذا الجزء ستستمعون إلى 3 محادثات، ثم تختارون الإجابة الصواب أو الخطأ. في كل محادثة لديكم 3 أسئلة. وستستمعون إلى هذا الجزء مرتين.

النص الأول:

- |                                     |         |        |
|-------------------------------------|---------|--------|
| 11. كان هذا الحلم في يوم العطلة.    | A. صواب | B. خطأ |
| 12. طلب جحا نظارة من زوجته.         | A. صواب | B. خطأ |
| 13. استيقظ جحا بعد أن تناول الطعام. | A. صواب | B. خطأ |

النص الثاني:

- |                                      |         |        |
|--------------------------------------|---------|--------|
| 14. خرج محمود مع جاره.               | A. صواب | B. خطأ |
| 15. اصطاد محمود سمكا كثيرا.          | A. صواب | B. خطأ |
| 16. طلب سمير من محمود أن يصطاد أكثر. | A. صواب | B. خطأ |

المحادثة الثالثة:

- |                            |         |        |
|----------------------------|---------|--------|
| 17. يزور سمير صديقه كثيرا. | A. صواب | B. خطأ |
|----------------------------|---------|--------|

18. يحب خالد تناول الأسماك البحرية. A. صواب B. خطأ  
19. بيت خالد قريب من محطة القطار. A. صواب B. خطأ

### PHẦN 3: Câu hỏi 20-25

في هذا الجزء ستستمعون إلى نصين، ثم تختارون الإجابة الصحيحة من بين الإجابات الأربع. في كل نص لديكم 3 أسئلة. وستستمعون إلى هذا الجزء مرتين.

#### النص الأول:

20. ستكون درجة الحرارة في الشمال \_\_\_\_\_ .  
A. 15 درجة  
B. 17 درجة  
C. 18 درجة  
D. 20 درجة
21. سينزل المطر طوال اليوم في اللجانب \_\_\_\_\_ .  
A. الشرقي  
B. الغربي  
C. الجنوبي  
D. الشمالي
22. تتحدث الأخبار عن \_\_\_\_\_ .  
A. أحوال الجو  
B. أحوال الرياضة  
C. أحوال السياسة  
D. أحوال الثقافة

#### النص الثاني:

23. ما الأشياء التي تباع في السوق الصغير؟  
A. الأطعمة  
B. الملابس  
C. ألعاب الأطفال  
D. الأثاث
24. ماذا تشتري زينب من الإنترنت؟  
A. الملابس  
B. الأجهزة الإلكترونية  
C. الأثاث  
D. كل الإجابات صحيحة
25. يفضل كثير من الناس أن يذهب إلى \_\_\_\_\_ .  
A. سوق الأربعاء  
B. سوق الخميس  
C. سوق الأحد  
D. سوق الجمعة

### KẾT THÚC BÀI THI

Em có 7 phút để chuyển câu trả lời sang phiếu trả lời.

# ĐỀ VIẾT

Thời gian: 60 phút

## PHẦN 1

اختر واحداً من الموضوعين التاليين:

1. اشترت قميصاً من محل دودو، ولكنك اكتشفت أن القميص ليس جيداً بعد ما أخذته إلى البيت. اكتب ايماً (120 كلمة على الأقل) إلى صاحب المحل لتقديم شكوى عن عيب القميص، على أن يتضمن اليمين النقاط الآتية:
  - وقت ومكان شراء القميص.
  - ما هي عيوب القميص (حفرة، الخيوط مقطوعة).
  - تبديل قميص آخر.
  - تحديد موعد إرجاع القميص.
2. الجدول التالي يبين حجم الصادرات والواردات لبعض الدول العربية في عام 2021، اكتب فقرة (120 كلمة على الأقل) لتلخيص البيانات في الجدول.

الدولة	صادرات، مليار دولار	واردات، مليار دولار	الميزان التجاري، مليار دولار
السعودية	176,5	131,5	45
الإمارات	172,5	181	-8,5
قطر	51,5	25,8	25,7
الكويت	40,149	27,7	12,45
مصر	26,8	60,2	-33,4
المغرب	27,7	44,5	-16,8
الجزائر	22,7	33,8	-11,1
العراق	65,48	34,61	30,87

Nguồn: <https://www.shihabpresse.dz/?p=118048>

## PHẦN 2

اكتب فقرة حوالي 200 كلمة عن فوائد وتحديات للحصول على شهادة من نظام اختبار اللغة الإنجليزية الدولي (شهادة IELTS).

# ĐỀ NÓI

الجزء الأول: أجب عن الأسئلة التالية (2-3 دقائق)

الجزء الثاني: تحدث عن الأكلات المفضلة لك. (3-4 دقائق بما في ذلك دقيقة واحدة للاستعداد)  
أفكار مفيدة:

- ما اسم الأكلة؟
- ما مكونات الأكلة وما فوائدها الصحية؟
- ما طريقة تحضيرها؟

الجزء الثالث: تحدث عن واحد من الموضوعين الآتيين التاليين: (3-4 دقائق بما في ذلك دقيقة واحدة للاستعداد)

الموضوع الأول: يقول البعض أننا يجب أن أقلل تناول كمية الكربوهيدرات لأنها تسبب زيادة وزن الجسم. هل توافق على ذلك؟ لماذا؟

الموضوع الثاني: يعتقد الكثير أن تكنولوجيا الاتصالات الحديثة لها بعض التأثيرات السلبية على العلاقات الاجتماعية. هل توافق على ذلك؟ لماذا؟

# ĐÁP ÁN THAM KHẢO

## ĐỀ ĐỌC

01.	B	19.	D
02.	A	20.	B
03.	D	21.	A
04.	C	22.	B
05.	B	23.	C
06.	C	24.	A
07.	B	25.	D
08.	D	26.	C
09.	A	27.	B
10.	C	28.	D
11.	C	29.	A
12.	A	30.	B
13.	D	31.	B
14.	C	32.	A
15.	B	33.	D
16.	B	34.	C
17.	D	35.	B
18.	A		

## ĐỀ NGHE

01.	B	14.	B
02.	D	15.	B
03.	D	16.	A
04.	D	17.	B
05.	D	18.	B
06.	A	19.	A
07.	C	20.	D
08.	C	21.	B
09.	C	22.	A
10.	C	23.	A
11.	B	24.	B
12.	A	25.	D
13.	B		